


MATEMATYKA Z ANGIELSKIM DLA KLAS DRUGICH SP

Na obrazkach są owoce :



..... - six zielonych



..... - four żółtych

Ile owoców jest na obu obrazkach ?


Napisz działanie.

.....

Łączną liczbę owoców napisz po angielsku.

W tym numerze zespół redakcyjny postanowił opracować i zamieścić zadania matematyczne dla klas drugich. Aby je rozwiązać trzeba znać liczby po angielsku od 1 do 10.

Naszym młodszym kolegom i koleżankom życzymy miłej zabawy przy ich rozwiązywaniu!



Zosia zjadła tyle , ile jest czerwonych

Policz , ile czerwonych i zielonych owoców jest razem po spożyciu przez Zosię.

Napisz działanie.

.....

Łączną liczbę owoców napisz po angielsku.

Przeczytaj głośno napisaną cyfrę.

.....

Mama kupiła na rynku tyle gruszek , ile jest na obrazku



..... , a w sklepie z owocami tyle brzoskwiń,



.....ile jest całych na obrazku.

Policz , ile sztuk owoców kupiła mama na rynku i w sklepie.

Napisz działanie.

.....

Łączną liczbę owoców napisz po angielsku.

Przeczytaj głośno napisaną cyfrę

Na polu w 3 rzędach rosły arbuzy.

W pierwszym rosły.....,




w drugim......,



a w trzecim jeden .......

Ile arbuzy w rosło na polu?

Napisz działanie .Oblicz je. Cyfry napisz po angielsku.

Rodzina jeży składała się z :


babci ......., dziadka .......,

mamy..... , taty.....


i dzieci .......

Z ilu jeży składała się rodzina jeży ?

Klucz żurawi nad afrykańską ziemią wyglądał tak jak na ilustracji



Ile żurawi liczył klucz?



Na talerzu Janka leżało owoców.





Tata przyniósł mu jeszcze jabłka.

Ile owoców mógł zjeść Janek ?

Napisz działanie .Oblicz je. Cyfry napisz po angielsku.

Janek gotował jesienną zupę .Do garnka włożył ...



Z ilu warzyw Janek gotował jesienną zupę ? Napisz równanie.

Napisz cyfry po angielsku.

Po winobranii z winnicy babcia przyniosła

jedną kość



dziadek przyniósł



mama przyniosła, a córka



Ile kiści winogron przyniesionych zostało z winnicy?

Napisz działanie. Oblicz je. Cyfry napisz po angielsku


Zosia pokroiła warzywa na zupę:




Ile sztuk warzyw pokroiła Zosia ?


kj

Nad drzewem fruwa tyle orłów , ile jest na ilustracji. Pod drzewem jest tyle , ile na ilustracji. Policz, ile jest orłów. Zapisz działanie po angielsku : cyfry i znaki matematyczne.



Na wycieczkę babcia dała swoim wnukom owoce :

Zosi ,

Kasi jedną 


Marcinowi 

Ile owoców dała babcia wnukom?

Napisz działanie .Oblicz je. Cyfry napisz po angielsku.

Przeczytaj głośno działanie po angielsku.

Tata gotuje zupę selerowo-cebulową. Ma :





Ile sztuk selera musi dołożyć , aby była taka sama ilość selera i cebuli ?